

13. Zoologijos sode yra 19 beždžionių: 4 šimpanzės, 3 pavianai, o likusios – kapucinai. Kapucinai užima tris voljerus, ir kiekviename voljere jų yra po lygiai. Kiek kapucinių yra viename voljere?

A) 5 B) 7 C) 3 D) 6 E) 4

14. Jonukui dabar yra 4 metai, o jo tėčiui – 26 metai. Kiek metų bus Jonuko tėčiui tada, kai Jonukas bus 3 kartus vyresnis negu yra dabar?

A) 78 B) 38 C) 42 D) 34 E) Kitas atsakymas

15. Močiutė iškepė pyragėlių su varške ir su uogiene – iš viso 31 pyragėlių. Kad pyragėlių su varške ir pyragėlių su uogiene pasidarytų po lygiai, ji dar iškepė 11 pyragėlių su varške. Kiek pyragėlių su varške močiutė iškepė iš pradžių?

A) 10 B) 21 C) 20 D) 15 E) Kitas atsakymas

16. Kai Rima nusipirko du vienodus rašiklius, tai jai liko 4 Lt. Jei ji norėtų nusipirkti dar 2 tokius pat rašiklius, tai jai pritrūktų 2 Lt. Kiek kainuoja vienas rašiklis?

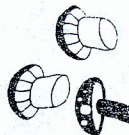
A) 2 Lt B) 10 Lt C) 6 Lt D) 3 Lt E) Kitas atsakymas

17. Adomas, Marius, Paulius ir Tomas renka pašto ženklus. Marius jų turi daugiau negu Paulius, o Tomas – mažiau negu Adomas. Mažiausiai ženklų turi ne Tomas. Kuris berniukas turi mažiausiai ženklų?

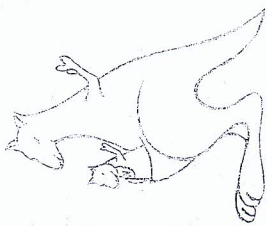
A) Adomas B) Marius C) Paulius D) Tomas E) Nustatyti neįmanoma

18. Tėtė rinko baravykus 2 valandas. Per pirmą valandą jis rado 39 baravykus. Kiek baravykų tėtė rado per antrą valandą, jei mama, per 5 minutes išvalydama 7 baravykus, visus tėtės surinktus baravykus suvalė per 40 minučių?

A) 74 B) 56 C) 49 D) 39 E) 17



KENGŪRA 2009



Nykštukas
1 ir 2 klases

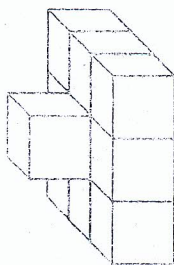
Konkurso trukmė – 50 minučių

Konkurso metu negalima naudotis skaičiuokliais

Klausimai po 3 taškus

1. Iš kelių kubelių pastatytas pavaizduotas statinys?

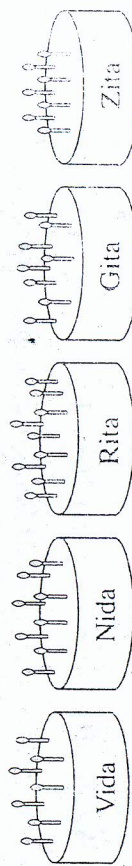
A) 12 B) 8 C) 9 D) 10 E) 11



2. Dabar yra 2009 metai. Kokia šio skaičiaus skaitmenų suma?

A) 7 B) 11 C) 12 D) 18 E) 209

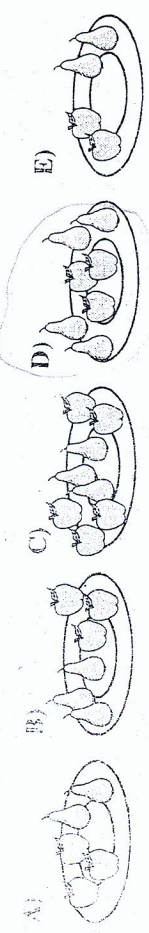
3. Penkios draugės tą pačią dieną šventė gimtadienius. Paveikslėlyje pavaizduoti jų šventiniai tortai.



Kuri iš jų yra vyriausia?

A) Vida B) Nida C) Rita D) Gita E) Zita

9. Naudodami braižinį parašykite, kaip daugiau negu kriaušių?

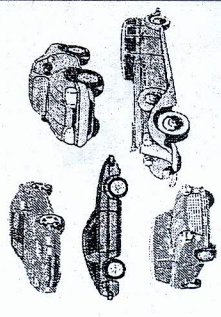


5. Ieva į lentelę įrašė keturis skaičius, kurių suma lygi 50. Ant vieno iš tų skaičių nutūpė peteliškė. Kokį skaičių dengia peteliškė?

5	
20	17

A) 18 B) 3 C) 9 D) 13 E) 8

6. Petras turi 12 mašinelių, o Povilas — keturionis daugiau negu Petras. Kiek mašinelių turi Petras ir Povilas kartu?



A) 28 B) 16 C) 48 D) 20 E) 8

Krausiniai po 4 taškus

7. Tėtis su trimis vaikais nuėjo į cirką. Lentelėje pateiktos bilietų kainos.

KASA	
Bilietas vaikui	9 Lt
Bilietas suaugusiajam	12 Lt

Kiek litų sumokėjo tėtis už bilietus?

A) 48 B) 21 C) 39 D) 30 E) Kita suma

8. Onutė užrašė dvi lygybes, o tada kai kuriuos skaičius užklijo lipdukais:

$$21 - 7 = \text{lipdukas}$$

$$2 \text{ lipdukas} = \text{lipdukas} + 1$$

Lipdukais užklijoti vienodi skaičiai. Koks skaičius yra po lipduku?

A) 15 B) 14 C) 25 D) 27 E) 28

9. Gydytojas Agnei išrašė 60 tablečių ir liepė gerti po 1 tabletę kasdien. Agnė pradėjo gydytis pirmadienį. Kuria savaitės diena ji išgers paskutinę tabletę?

A) Pirmadienį B) Antradienį C) Trečiadienį D) Ketvirtadienį E) Penktadienį

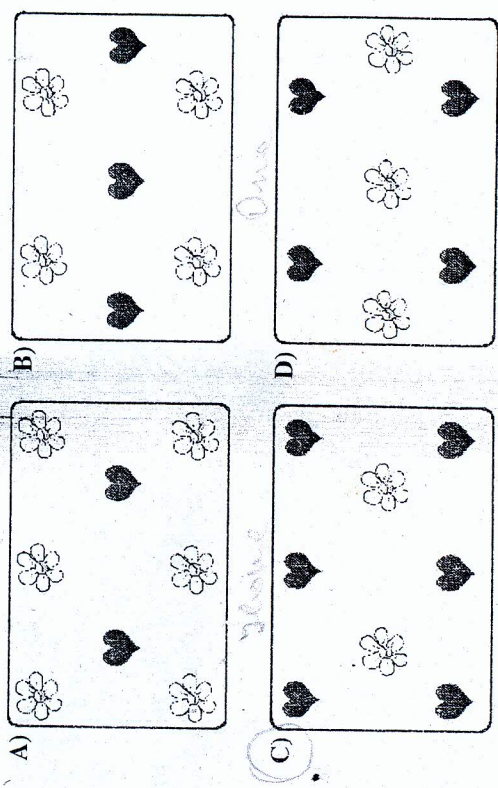
10. Mama Julėi nupirko 6 vienodas dėžutes spalvotų kreidelių. Julė iš dviejų dėžučių išėmė visas kreideles — jų buvo 18. Kiek iš viso kreidelių nupirko mama?

A) 26 B) 54 C) 24 D) 108 E) 9

11. Tomas 2 cm aukštesnis už Petrą ir 5 cm aukštesnis už Povilą. Kiek centimetrų Petras aukštesnis už Povilą?

A) 7 cm B) 3 cm C) 10 cm D) Povilas yra aukštesnis už Petrą E) Nustatyti neįmanoma

12. Mergaitės piešė piešinėlius su gėlytėmis ir širdutėmis. Ievos piešinėlyje yra 6 gėlytės, o Onos piešinėlyje — 4 širdutės. Ilona nupiešė 3 kartus mažiau gėlyčių negu Ieva ir dviem širdutėmis daugiau negu Ona. Kuris piešinėlis yra Ilonos?



E) Nė vienas iš pavaizduotų