

15. Šuo Amsis, katinas Murklis ir 4 beždžionytės kartu sveria 24 kg. Amsis ir viena beždžionytė kartu sveria 11 kg, o Murklis ir 2 beždžionytės sveria 1 kilogramu mažiau nei Amsis ir viena beždžionytė kartu. Kiek sveria katinas Murklis?

- A) 3 kg B) 4 kg C) 5 kg D) 6 kg

16. Agnė, Kamilė, Mikas ir Darius varžėsi, kas suvalgys daugiau obuolių. Darius suvalgė obuolių daugiau už Kamilę, o Mikas – mažiau nei Agnė. Darius varžytuvių nelaimėjo. Kas suvalgė daugiausiai obuolių?

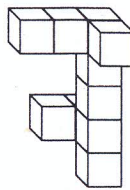
- A) Agnė B) Kamilė C) Mikas D) Nustatyti neįmanoma

17. Kokį skaičių reikia įrašyti į kvadratą, kad atlikę veiksmus gautume 100?

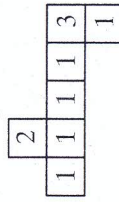


- A) 11 B) 9 C) 14 D) 12

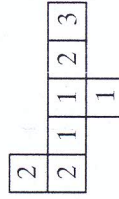
18. Paulius ir Jonas statė statinius iš vienodų kubinių trinkelų. Pauliaus statinys pavaizduotas 1 paveikslėlyje, o 2 paveikslėlyje matome to statinio vaizdą iš viršaus. Jono pastatyto statinio vaizdą iš viršaus matome 3 paveikslėlyje. (Dėmesio: skaičiai rodo, kiek trinkelų toje vietoje sukrauta viena ant kitos.)



1 pav.

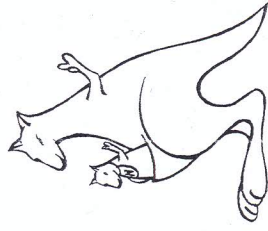
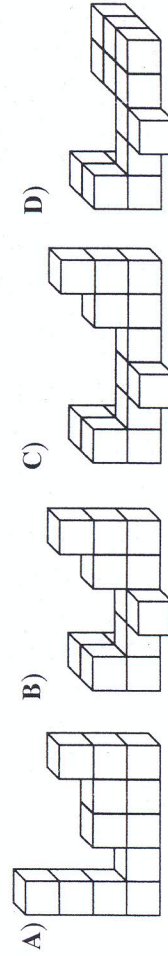


2 pav.



3 pav.

Kurį statinį sustatė Jonas?



Konkurso trukmė – 50 minučių
Konkurso metu negalima naudotis skaičiuokliais

Klausimai po 3 taškus

1. Kam lygi skaičiaus 2011 skaitmenų suma?

- A) 202 B) 31 C) 4 D) 13




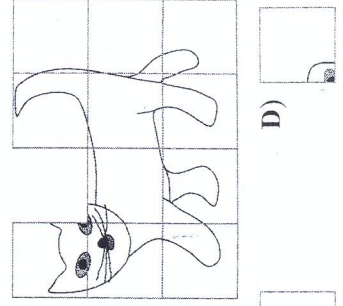
2. Kotrynos lėlė su suknele, turi dvi kasas, o rankoje laiko vieną gėlytę. Kuriam paveikslėlyje pavaizduota Kotrynos lėlė?



3. Po žiemos sezono sporto parduotuvėje liko 12 porų slidžių batų. Kiek slidžių batų liko toje parduotuvėje?

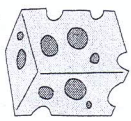
- A) 6 B) 12 C) 24 D) 4

4. Dėlionėje trūksta vienos kortelės. Kuria kortele reikia papildyti dėlionę?



5. Šios dienos data — 2011 03 17. Po produktu parašytas jo galiojimo laikas. Kuris produktas nebetinkamas?

A)



B)



C)



D)



2011 09 15

2012 03 04

2011 06 11

2011 02 25

6. Martyno močiutė po 36 metų švęs savo šimtąjį gimtadienį. Kiek metų Martyno močiutei dabar?

A) 74 B) 64 C) 66 D) 36

Klausimai po 4 taškus

7. Ona turi šunų, taip pat 4 kates. Kačių ausų skaičius lygus šunų kojų skaičiui. Kiek šunų turi Ona?

A) 8 B) 2 C) 4 D) 6

8. Simas turi du vienodus akvariumus. Pirmame iš jų yra 26 litrai vandens, antrame — 42 litrai. Kiek litrų vandens Simas turi perpilti iš antro akvariumo į pirmą, kad abiejuose akvariumuose vandens būtų tiek pat?

A) 6 B) 16 C) 10 D) 8

9. Žemiau matome traukinių tvarkaraščio fragmentą.

IŠVYKIMAS IŠ DRUSKININKŲ			
I VILNIŲ	6:55	8:30	9:35
		11:15	12:50

- Dabar yra 8:45. Tomas važiuos iš Druskininkų į Vilnių artimiausiu traukiniu. Traukinys įveikia tą kelią per 2 valandas 45 minutes. Kelintą valandą Tomas bus Vilniuje?

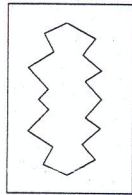
A) 11:25 B) 12:20 C) 11:10 D) 12:05

10. Už tris vienodus spalvotus pieštukus, du tušinukus ir du trintukus Kotryna sumokėjo 11 Lt 60 ct. Ona pirko tokius pat vieną spalvotą pieštuką, du tušinukus ir du trintukus, o sumokėjo 8 Lt 40 ct. Kiek kainavo spalvotas pieštukas?

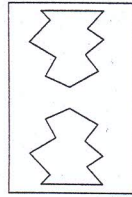
A) 1 Lt 20 ct B) 1 Lt 50 ct C) 1 Lt 60 ct D) 3 Lt 20 ct

11. Neda popieriaus lapą sulenkė pusiau ir iškirpo iš jo gabalą, kaip pavaizduota paveikslėlyje šalia. Kuris iš apačioje pavaizduotų lapų yra atlenktas Nedos karpinys?

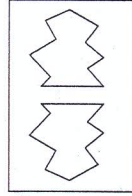
A)



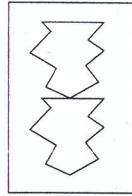
B)



C)



D)



12. Ponas Zigmąs turi tris dukteris. Jauniausiai 5 metai. Vidurinė 4 metais jaunesnė už vyriausiąją ir 6 metais vyresnė už jauniausiąją dukterį. Kiek metų vyriausiajai pono Zigmąs dukteriai?

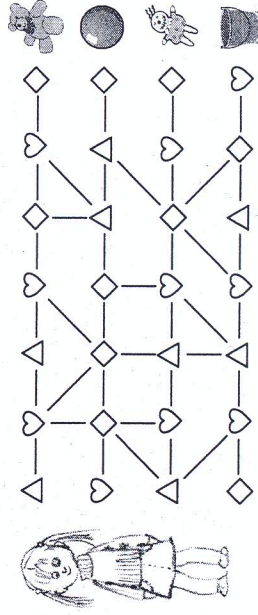
A) 10 B) 11 C) 9 D) 15

Klausimai po 5 taškus

13. Gėlių parduotuvėje gėlės pamerktos į tris vazas. Vienoje yra 16 gėlių, antroje — 11, o trečioje — 17. Pardavėja pardavinėjo tik puokštes iš 5 gėlių. Tam tikru momentu ji pamatė, kad nebegali sudaryti tokios puokštės net iš visų likusių gėlių. Kiek gėlių liko parduotuvėje?

A) 1 B) 2 C) 3 D) 4

14. Kad susirastų savo žaisliuką, Onutė turi eiti keliu, nužymėtu vienas po kito ženklais \triangle , \heartsuit , \diamond , \triangle , \heartsuit , \diamond , \triangle , \heartsuit , \diamond .



Kuris žaislas priklauso Onutei?

A)



B)



C)



D)

